



DIREITO
SÃO BERNARDO

Vestibular 2019

O conteúdo desta prova é de propriedade da Fundação São Paulo. É expressamente proibida a sua reprodução, utilização em outros concursos, bem como o uso em sala de aula ou qualquer outro tipo, na totalidade ou em parte, sem a prévia autorização por escrito, estando o infrator sujeito à responsabilidade civil e penal.

Nome do Candidato(a):

Nome do Prédio:

Sala:

Lugar:

Instruções

1. No local indicado, escreva seu nome.
2. A prova contém 50 questões objetivas e uma redação.
3. A prova é individual e sem consulta.
4. No preenchimento da folha óptica, preste atenção na sequência numérica das questões.
5. A devolução dos cadernos de questões e de respostas, ao término da prova, é obrigatória.
6. A prova terá duração de 5 horas, e a saída da sala é permitida a partir de 2 horas após o início. Não haverá tempo adicional para o preenchimento da folha de respostas.



Matemática

• Questão 01 •

Observe a seguinte tirinha, publicada no jornal O Estado de São Paulo, em 08/03/2018.



Suponha que o personagem da história dê a 1ª mordida no sanduíche às 12:00 e termine de comê-lo às 18:00. Mantida a condição especificada pelo personagem, 2 horas e 45 minutos após a 1ª mordida, o comprimento do sanduíche que ainda resta para ser consumido é de:

- A) 82,5 cm
- B) 88,0 cm
- C) 94,0 cm
- D) 97,5 cm

• Questão 02 •

A média das notas da prova de matemática de um grupo de 5 amigos é 7,6, sendo que 2 dessas notas são iguais. Se forem excluídas as 2 notas iguais, a média das demais provas passa a ser 8,0, mas, se apenas a nota mais alta for excluída, a média das outras 4 provas passa a ser 7,25. Sabendo que a diferença entre a nota mais alta e a nota mais baixa é 2,5, então, a média entre as duas notas mais altas é:

- A) 9,00
- B) 8,75
- C) 8,50
- D) 8,25

• Questão 03 •

A placa de um carro possui 4 algarismos distintos $xyzt$, de modo que:

- $x \cdot y \cdot z \cdot t = 30$
- $x + z = y$
- $z \cdot t = z$
- $x \cdot z = 6$

A soma dos algarismos dessa placa é um número:

- A) Quadrado perfeito.
- B) Par.
- C) Primo.
- D) Múltiplo de 5.

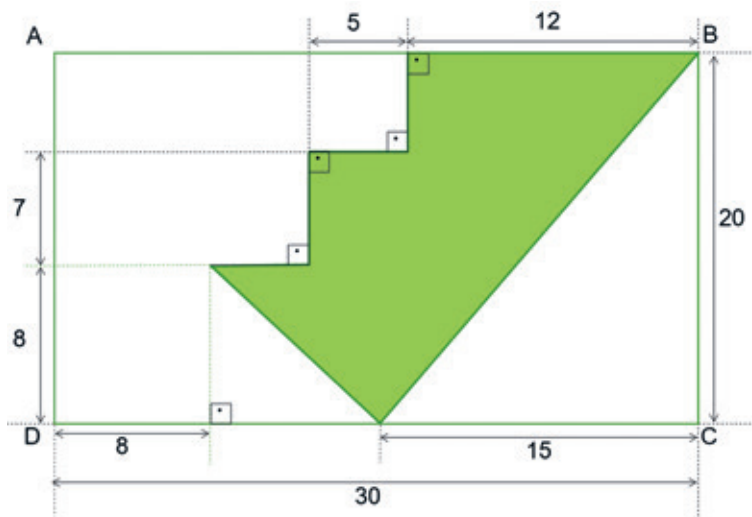
• Questão 04 •

Uma faculdade de Direito oferece vários cursos de especialização, entre eles, especialização em Direito Tributário e em Direito Civil. Esses dois cursos receberam juntos, um total de 130 inscrições. Porém, no início das aulas, 12% dos inscritos no curso de Direito Tributário e 5% dos inscritos no curso de Direito Civil desistiram, totalizando assim 10 desistências. Para que o número de alunos desistentes do curso de Direito Tributário tivesse sido igual ao número de alunos desistentes do curso de Direito Civil, seria necessário que a taxa de desistência no curso de Direito Tributário fosse de:

- A) 5%
- B) 6%
- C) 7%
- D) 8%

• Questão 05 •

O logotipo de uma empresa foi desenhado em um papel retangular de 20 cm de largura por 30 cm de comprimento, conforme mostra a figura, cujas medidas indicadas estão em centímetros.



Fora de Escala

A área assinalada em verde na figura é:

- A) 177 cm^2
- B) 180 cm^2
- C) 205 cm^2
- D) 213 cm^2



• Questão 06 •

Uma máquina térmica, operando entre duas fontes térmicas de temperaturas 17°C e 127°C , recebe uma potência total de 8000W . Essa máquina possui um rendimento que corresponde a $5/8$ do rendimento teórico previsto pela máquina de Carnot. Com base nesses dados, determine, em watt, a potência útil fornecida por essa máquina:

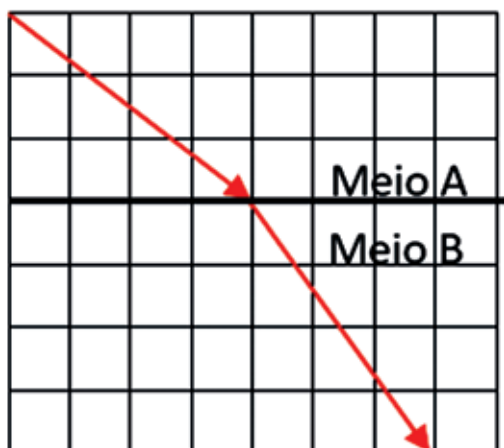
- A) 5000
- B) 4330
- C) 2200
- D) 1375

• Questão 07 •

O projeto de um elevador prevê que ele execute um movimento retilíneo e uniforme com velocidade de 45m/min , ao longo de um percurso de 90m . Para tanto, ele disporá de um motor cuja potência será de 15kW . Quando vazio, o elevador terá uma massa de 600kg . Determine o número máximo de pessoas, com massa de 70kg cada, que poderão ser transportadas com segurança por esse elevador. Adote o módulo da aceleração da gravidade igual a 10m/s^2 :

- A) 20
- B) 16
- C) 12
- D) 8

• Questão 08 •



Um raio de luz monocromático, de frequência $f = 6,0 \cdot 10^{14}\text{Hz}$, propaga-se do meio **A**, com velocidade de $3,0 \cdot 10^5\text{km/s}$, para o meio **B**, conforme indica a figura em escala. Ambos os meios são homogêneos e transparentes. Determine o comprimento de onda do raio refratado, em nanômetros, sabendo-se que o índice de refração absoluto do meio **A** é igual a 1:

- A) 667
- B) 500
- C) 375
- D) 281

• Questão 09 •

A injeção endovenosa consiste na introdução de medicamento, diretamente na corrente sanguínea. Seu uso permite a administração de grande volume de líquidos e ação imediata do medicamento. Para uma aplicação endovenosa em um paciente, cuja pressão sanguínea venosa é de 15,5mmHg, é escolhida uma seringa hipodérmica, cuja área interna da secção transversal é 625 vezes maior, do que a área interna da secção transversal da agulha que é acoplada a ela. **Determine o diâmetro da secção transversal interna dessa agulha, em mm, sabendo-se que foi aplicada ao embolo dessa seringa uma força mínima de 0,625N, suficiente para injetar o fluido medicamentoso na veia desse paciente. Considere o fluido medicamentoso um líquido ideal e em equilíbrio:**

Adote:

$$1\text{mmHg} = 133\text{N}\cdot\text{m}^{-2}$$

$$\pi = 3$$

- A) 0,80
- B) 0,70
- C) 0,48
- D) 0,40

• Questão 10 •

Frentes de onda plana de frequência f , geradas por uma fonte sonora em repouso, propagam-se uniformemente com velocidade de módulo v_{Frente} , conforme representado na figura. Um observador executa um movimento retilíneo e uniforme com velocidade de módulo $v_{obsv} < v_{Frente}$, numa direção que forma um ângulo θ com a direção do vetor velocidade de propagação das frentes de onda. **Nessas condições, a frequência da onda que será percebida pelo observador está representada na alternativa:**

- A) $f \cdot \left(\frac{v_{Frente} - v_{obsv}}{v_{Frente}} \right)$
- B) $f \cdot \left(\frac{v_{obsv} \cdot \text{sen} \theta + v_{Frente} \cdot \text{cos} \theta}{v_{obsv}} \right)$
- C) $f \cdot \left(\frac{v_{obsv} + v_{Frente} \cdot \text{sen} \theta}{v_{obsv}} \right)$
- D) $f \cdot \left(\frac{v_{Frente} - v_{obsv} \cdot \text{cos} \theta}{v_{Frente}} \right)$

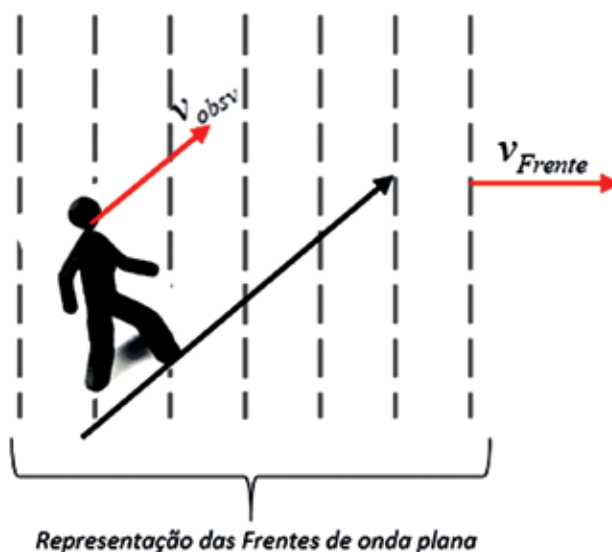




TABELA PERIÓDICA

Legenda para Francium (Fr):

- Nome do Elemento
- Massa Atômica * (relativa ao $^{12}\text{C} = 12,0000 \dots \text{u}$)
- Or [Z] indicam o número de massa do radioisótopo com maior tempo de meia-vida
- Elemento Radioativo
- Símbolo do Elemento
- Estado Físico a 25°C e 1 atm: Sólido, Líquido, Gasoso, ou outros.
- Número Atômico (Z)

Abreviaturas:
 (s) = sólido; (l) = líquido; (g) = gás; [A] = concentração de A em mol.L⁻¹
 (aq) = aquoso; (conc) = concentrado. R = 0,082 atm.L.mol⁻¹.K⁻¹

Fonte: Adaptada de <http://www.quimicaul.com.br>

• Questão 11 •

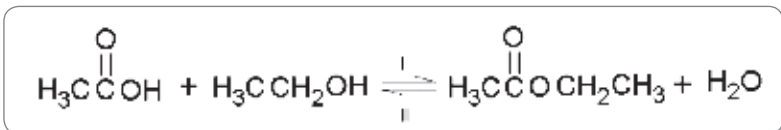
A resistência da madeira, e o fato das árvores manterem-se eretas são atribuídas em grande parte pelas interações entre os grupos hidroxilas, presentes em suas moléculas de celulose.

Estas interações ocorrem por meio de

- A) forças de London.
- B) ligações de hidrogênio.
- C) ligações iônicas.
- D) forças íon-dipolo.

• Questão 12 •

A reação entre um ácido carboxílico e um álcool resulta em um éster.

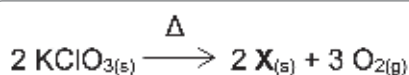


Sobre esta reação é correto afirmar que

- A) a reação que ocorre no sentido I é de esterificação, e no sentido II é uma reação de hidrólise.
- B) a reação de hidrólise ocorre no sentido I da reação.
- C) ácido metanoico e propanol são produtos da reação I.
- D) a adição de ácido etanoico desloca o equilíbrio no sentido II da reação.

• Questão 13 •

Uma forma de obtenção de oxigênio, em escala laboratorial, é pela reação de pirólise do clorato de prata.

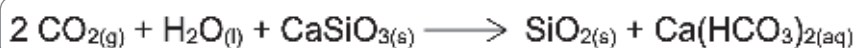


O produto X da reação apresenta a nomenclatura correta de

- A) perclorato de potássio.
- B) clorito de potássio.
- C) cloreto de potássio.
- D) hipoclorito de potássio.

• Questão 14 •

Considere que em um processo haja a emissão de dióxido de carbono e, para sua remoção seja utilizada uma emulsão de silicato de cálcio em água.



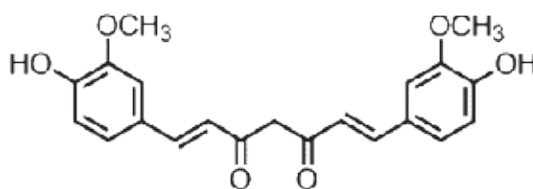
Qual seria a massa aproximada necessária de CaSiO_3 para reagir completamente com 0,5 kg de dióxido de carbono produzido?

- A) 1320g
- B) 190g
- C) 250g
- D) 660g

• Questão 15 •

Diversos medicamentos utilizados atualmente derivam da medicina Ayurveda (sistema medicinal característico da Índia Antiga). Na prática ayurvédica, a curcumina é utilizada pelas suas ações digestivas, como carminativo, imunizante, antialérgico, antimicrobiano, estimulante, anti-inflamatório, cicatrizante, antioxidante, ou, ainda, pela sua atuação em doenças respiratórias (asma, bronquites e alergias) e em outros transtornos, como anorexia, doenças hepáticas e sinusite.

Fonte: Curcumina, o pó dourado do açafrão-da-terra: introspecções sobre química e atividades biológicas, Química Nova, 2015.



curcumina

Sobre este composto é correto afirmar que

- A) pode ser obtido a partir de uma reação de esterificação.
- B) possui as funções orgânicas éter, éster e fenol.
- C) possui o grupamento $\text{C}=\text{O}$, denominado carbonila.
- D) este composto é um ácido carboxílico de cadeia longa.



• Questão 16 •

Leia atentamente o texto a seguir:

Recentemente, foram descobertas formas gigantes de vírus no Brasil, os Tupanvirus. Eles foram encontrados em ambiente aquático cujas condições se assemelham àquelas em que deve ter se originado a vida na Terra. Sabe-se que tais vírus possuem os genes necessários para a incorporação dos vinte tipos diferentes de aminoácidos nas proteínas, e os pesquisadores os consideram como um “elo perdido” na evolução da vida. Os Tupanvirus não infectam humanos, apenas algumas espécies de amebas, consideradas organismos dos mais antigos na história evolutiva dos seres vivos.

Modificado a partir de <<https://www.embrapa.br/busca-de-noticias/-/noticia/32243250/virus-gigante-com-genetica-inedita-e-descoberto-no-pantanal>>

No texto acima, são mencionados:

- A) Um organismo acelular e dois eucariontes.
- B) Dois organismos unicelulares e um pluricelular.
- C) Dois organismos procariontes e um eucarionte.
- D) Dois organismos acelulares e um eucarionte.

• Questão 17 •

No gato doméstico, o fenótipo Manx é caracterizado pela ausência de cauda. Esse fenótipo resulta da expressão de um alelo dominante, letal em homozigose. Uma única cópia desse alelo interfere de modo grave no desenvolvimento da coluna vertebral, o que resulta na falta de cauda no heterozigoto. Em dose dupla, o alelo produz uma anomalia tão severa no desenvolvimento, que o embrião não sobrevive.

Se considerarmos a possível descendência de um casal de gatos Manx, a probabilidade de nascimento de um filhote com cauda normal a partir desse casal seria de:

- A) $\frac{1}{2}$
- B) $\frac{1}{3}$
- C) $\frac{1}{4}$
- D) $\frac{2}{3}$

• Questão 18 •

Bronquite é uma doença causada por inflamação nos brônquios, que se instala quando há acúmulo de secreção. Além de tosse intensa, o doente pode sentir, também, falta de ar, na forma crônica da doença.

Essa falta de ar é explicada pelo fato de que a secreção:

- A) Impede que os brônquios façam hematose.
- B) Bloqueia a passagem de ar para a traqueia.
- C) Impede que o ar chegue aos alvéolos pulmonares.
- D) Interrompe a movimentação normal do diafragma.

• Questão 19 •



Fonte <<https://3.bp.blogspot.com/-woGGF-ruPOM/WC-Nov778zI/AAAAAAAAAoE/ph5bCDm6uLgJq1sP3xVfVZ23eff4dbdXwCLcB/s1600/samambaia-1.jpg>>

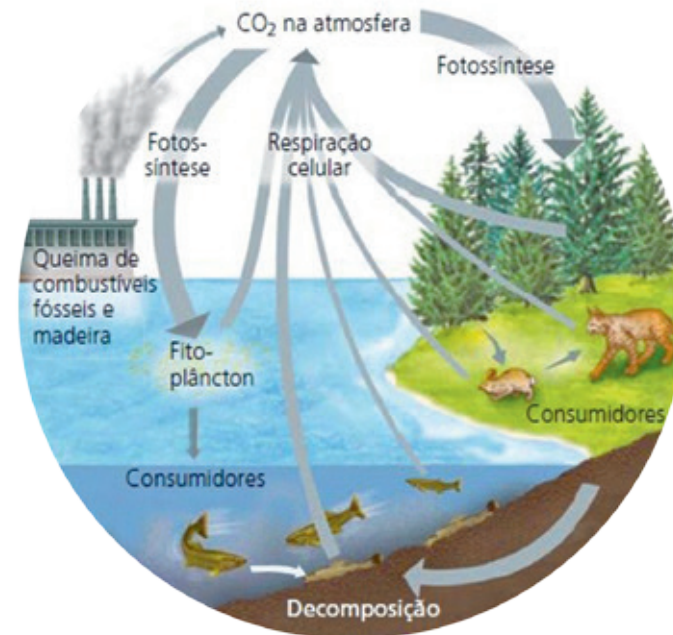
A imagem ao lado mostra a face inferior de uma folha de samambaia, onde é possível observar pequenas estruturas puntiformes de cor amarronzada.

A respeito dessas pequenas estruturas, assinale a alternativa correta.

- A) Denominam-se báculos, e correspondem a novas folhas em estágio juvenil.
- B) Denominam-se estróbilos, e correspondem a grupos de esporófilos.
- C) Denominam-se esporos, e correspondem a estruturas reprodutivas haploides.
- D) Denominam-se soros, e correspondem a agrupamentos de esporângios.

• Questão 20 •

Considere a seguinte combinação de eventos: devastação das matas, redução do fitoplâncton por poluição aquática e aumento da queima de combustíveis fósseis. De acordo com as informações apresentadas no esquema a seguir, uma consequência dessa combinação de eventos seria:



- A) Aumento da produção primária bruta.
- B) Agravamento do efeito estufa.
- C) Aumento na liberação de oxigênio na atmosfera.
- D) Abundância de alimento para os consumidores primários.



• Questão 21 •

De qualquer modo, a ocupação de Ceuta possibilitou indubitavelmente aos portugueses a obtenção de informações acerca das terras negras do Alto Níger e do Senegal, de onde o ouro vinha, se é que não possuíam já essas informações a partir de fontes como o “Mapa Catalão” de 1375 ou das narrativas dos mercadores judeus.

Boxer, C.R. O Império Colonial Português. Lisboa: Edições 70, 1969 - p.41

Com base no enunciado, assinale a alternativa que melhor explique as razões das investidas portuguesas na África.

- A) A busca por ouro e as dificuldades de se atingir as especiarias do Oriente, devido ao domínio veneziano no Mediterrâneo Oriental.
- B) O domínio da navegação judaica no Mediterrâneo Oriental e a necessidade de se controlar a passagem comercial pelo estreito de Ceuta, até então dominada pelos muçulmanos.
- C) O fim do monopólio português sobre o mediterrâneo Oriental após derrota frente aos turcos-otomanos e a consequente necessidade de se buscar uma nova rota para se atingir as especiarias.
- D) A busca por ouro foi o único motivo que levou Portugal a investir nas rotas africanas como alternativa para se atingir o Oriente.

• Questão 22 •

Sobre o que girava a política internacional entre os anos de 1848 e 1870? A historiografia tradicional ocidental tem pouca dúvida a este respeito: era sobre a criação de uma Europa de nações-estados. Talvez haja considerável dúvida sobre a relação entre esta faceta da era e outras que estavam evidentemente em conexão com ela, tais como o progresso econômico, liberalismo, talvez até democracia, mas nenhuma sobre o papel central da nacionalidade.

E realmente, como poderia haver? Mesmo significando outras coisas, 1848, a “primavera dos povos”, foi claramente, e sobretudo em termos internacionais, uma afirmação de nacionalidade, ou melhor, de nacionalidades rivais.

Hobsbawn, E.J. A Era do capital: 1848 a 1875; Rio de Janeiro, Paz e Terra, 2ª edição, 1979 - p.101

A partir da leitura do texto, pode-se afirmar que:

- A) Os projetos nacionalistas do século XIX foram decorrência direta e exclusiva da primavera dos povos de 1848.
- B) Os elementos nacionalistas, que surgiram neste ambiente globalizado, não se relacionaram aos propósitos liberais que moldaram o século XIX.
- C) O nacionalismo tornou-se mais forte durante o século XIX, porque, dentre outros motivos, os ideais liberal-burgueses se espalharam com vigor ao longo da Revolução Industrial.
- D) As propostas democráticas e liberais moldaram os propósitos socialistas como uma resposta ao nacionalismo exacerbado que surgiu na Alemanha e na Itália ao longo do século XIX.

• Questão 23 •

Segundo o texto, pode-se dizer que:

Em maio de 1930, o presidente de Minas, Antônio Carlos Ribeiro de Andrada, elegante e em traje de gala, compareceu à cerimônia de inauguração da estrada de rodagem entre o Rio de Janeiro e São Paulo – um grande momento para a administração de Washington Luís. Antônio Carlos subiu no palanque, acomodou-se ao lado do presidente da República e, no primeiro discurso que ouviu, ficou chocado. O orador deixou a sutileza de lado e bateu firme na tecla da sucessão: saudou o presidente de São Paulo, Júlio Prestes, como o “futuro presidente da República” (...) Antônio Carlos entendeu o recado, voltou para Belo Horizonte e foi conspirar.

Schwarcz, L.M. Brasil: uma biografia – 1ª ed.- São Paulo: Companhia das Letras, 2015. p.353

- A) Este momento revela a construção de um cenário de compadrios e apadrinhamentos que tinha por objetivo a mera perpetuação de um grupo oligárquico no poder, composto por figuras ligadas à grande lavoura e à indústria paulista.
- B) Foi um momento de reconstrução da economia do país, devastada pela grande guerra e pela crise de 1929, com Washington Luís à frente, organizando nossas finanças por meio de Caixa de Conversão do câmbio, cioso da necessidade de manter viva a Política dos Governadores para atingir plenamente esse fim.
- C) Foi uma passagem importante da História do Brasil, quando as chamadas Oligarquias Dissidentes se uniram em torno da economia cafeeira paulista, para garantir a manutenção do poder, ameaçado pela ascensão do grupo da Aliança Liberal, coordenado por Vargas e João Pessoa.
- D) A partir desse cenário de ruptura, sentido pelo presidente de Minas Gerais como um desrespeito à Política dos Governadores e à Política do café-com-leite, a oposição de Minas a São Paulo somou-se a outros setores descontentes, tais como o movimento operário, classes médias urbanas e tenentes, em torno de Vargas, o grande articulador desses descontentamentos

• Questão 24 •

Excetuada a revolta dos antigos escravos africanos no Haiti, a independência dos países latino-americanos foi a de colonizadores europeus, os **crioulos**, os quais, ao se libertarem dos entraves causados às suas atividades econômicas pelas metrópoles ibéricas, libertavam-se também daqueles obstáculos que, no caso do império espanhol, a metrópole tentara causar aos excessos do domínio desses mesmos crioulos sobre os indígenas. (...)

Lambert, J. América Latina: estruturas sociais e instituições políticas; 2ª ed, São Paulo: Ed. Da Universidade de São Paulo, 1979 - p.121 e 122

Após leitura atenta do texto, pode-se dizer que a Independência das colônias americanas se efetuou em bases:

- A) Populares, já que percebemos uma efetiva participação de indígenas e negros contra o domínio ibérico.
- B) Elitistas, já que a aristocracia, detentora das propriedades de terra, organizou a ruptura sem transformar a estrutura socioeconômica até então vigente.
- C) Monarquistas, já que passaram a seguir o movimento de ruptura do Brasil em relação à sua metrópole, porém com uma preocupação constitucional.
- D) Republicanas, com ampla participação popular, fiel às propostas aristocráticas que visavam acomodar as classes trabalhadoras em novas formas de trabalho, criticando a escravidão e a exploração camponesa.

• Questão 25 •

I) Tanto os velhos partidos como os novos, em que os velhos se transformaram sob novos rótulos, nada exprimiam ideologicamente, mantendo-se à sombra de ambições pessoais ou de predomínios localistas (...)

Por outro lado, as novas formações partidárias surgidas em todo o mundo, por sua própria natureza refratárias aos processos democráticos, oferecem perigo imediato para as instituições, exigindo, de maneira urgente e proporcional à virulência dos antagonismos, o reforço do poder central

Discurso de posse de Vargas ao instaurar o Estado Novo (1937) – retirado de <https://homemculto.com/2009/05/01/discurso-do-dr-getulio-vargas-em-10-de-novembro-de-1937-ao-implantar-o-estado-novo/> - acessado em 13/10/2018

II) A História inspiradora de como um povo se rebelou e impediu os comunistas de tomarem conta de seu país. Raramente uma grande nação esteve mais perto do desastre (e se recuperou), do que o Brasil em seu triunfo sobre a subversão vermelha.

Os elementos da campanha comunista para a dominação – propaganda, infiltração, terror – estavam em plena ação.

A rendição total parecia iminente... e então o povo disse: Não!

... Nos calendários dos chefes vermelhos do Brasil – assim como nos de Moscou, Havana e Pequim – as etapas para a conquista do poder estavam marcadas com um círculo vermelho: primeiro, o caos; depois, a guerra civil; por fim, domínio comunista total.

“A Nação que se salvou a si mesma. 31 de Março: 1964-1978”, separata de Seleções do Reader's Digest, 1964 e reeditado em 1978 – retirado de <<http://www.scielo.br/pdf/rbh/v31n62/a08v31n62.pdf>> acessado em 13/10/2018

Após leitura atenta dos dois textos sobre os dois momentos históricos retratados, pode-se afirmar que eles convergem:

- A) Para uma análise mais aprofundada de nossas instituições democráticas, ao perceber que, em momentos em que foram abaladas por perspectivas personalistas ou de grupo, sobrepondo-se a interesses nacionais, foram alvo de golpes civis-militares sob o discurso de uma suposta ameaça comunista.
- B) Para o fato de grupos elitistas sempre se aventurarem a tomar o poder, com respaldo civil-militar, quando seus interesses mais imediatos em termos econômicos e sociais, em consonância aos propósitos liberais e democráticos, forem ameaçados por reais eventos de caráter comunista, diretamente vinculados a grupos internacionais que visam instaurar a luta de classes nas Américas.
- C) Para propósitos claramente democráticos, preservando a ordem e o progresso decorrente desta, sempre que atos comunistas ou anarquistas possam prejudicá-los.
- D) Para uma reflexão sobre o que seria a democracia dentro das concepções varguista e, mais tarde, militares, nos dois cenários históricos retratados. Para Vargas, democracia deveria levar em conta o socialismo. Para os militares de 1964, não haveria democracia sem liberdade econômica.



• Questão 26 •



<<https://mcartuns.wordpress.com/2013/08/02/globalizacao-3/>>

Assinale a alternativa que melhor interpreta a charge acima.

- A) O porteiro indica o caminho de entrada para as pessoas que chegaram atrasadas para a festa da Globalização. A entrada de serviço é utilizada para não atrapalhar a festa, que já teve início.
- B) A imagem, ao representar ricos e pobres, fortalece a ideia de globalização para todos, tanto no aspecto global como local. Essa ideia é reforçada na faixa com os dizeres: “Entrada Franca!”
- C) Ao indicar a entrada de serviço para convidados, aparentemente mais pobres, a ação reforça o caráter discriminatório do processo de globalização, mesmo que a entrada para a “Festa” seja gratuita.
- D) Os convidados apresentam certo desconforto, pois são os últimos a ingressar na festa da globalização. O porteiro, gentilmente, indica o caminho de entrada, utilizado pela minoria dos convidados.

• Questão 27 •

“Cientes da urgência e da necessidade de resultados tangíveis, os participantes celebraram as propostas práticas para manter e desenvolver canais de pagamento, notadamente, a iniciativa de estabelecer uma Sociedade de Propósito Específico, para facilitar os pagamentos relacionados às exportações iranianas, incluindo petróleo”.

(Folha de S. Paulo – 25/setembro 2018, A16)

Utilize o fragmento acima para avaliar as seguintes afirmativas:

- I – O texto se refere à ajuda oferecida ao Irã, na tentativa de aumentar a ofensiva contra o autointitulado Estado Islâmico, que domina parte dos territórios da Síria, Iraque e, recentemente, a cidade de Yazid, região central do território iraniano.
- II – As potências mencionadas no texto são Reino Unido, China, França, Alemanha e Rússia, países que ainda integram o acordo de 2015, referente ao programa nuclear iraniano.
- III – Em maio de 2018, Donald Trump anuncia a saída dos Estados Unidos do acordo nuclear firmado com o Irã em 2015. O presidente Trump taxou a iniciativa de 2015 como o “pior acordo do mundo”.
- IV – Arábia Saudita e Israel, ao saberem do desligamento dos Estados Unidos, em relação ao acordo nuclear iraniano, prontamente se solidarizaram com o Irã, pois esses países praticam, majoritariamente, o Islamismo sunita e são aliados políticos e econômicos.

Assinale a alternativa que apresenta somente afirmativas verdadeiras.

- A) I e II
- B) I e III
- C) II e III
- D) III e IV

• Questão 28 •



<<https://www.google.com.br/maps/place/>>

A imagem ao lado, retirada do Google maps, tem como destaque:

- A) A Serra do Navio, importante reserva de Manganês.
- B) A Hidrelétrica de Belo Monte, que após sua total conclusão, será a maior hidrelétrica 100% brasileira em capacidade instalada.
- C) A Serra dos Carajás, maior reserva de minério de ferro do Brasil.
- D) O Vale do rio Trombetas, em Oriximiná, maior área de extração de bauxita do Brasil.

• Questão 29 •



<<https://pt.wikipedia.org>>

Assinale a alternativa que identifica e caracteriza corretamente a região destacada no mapa ao lado:

- A) Tibete, área seca e montanhosa, anexada à China em 1950, que tem, no líder budista Dalai Lama, seu maior defensor da independência do governo chinês. A expressão Free Tibet é conhecida mundialmente e vários artistas e intelectuais defendem essa causa.
- B) Sinkiang, área rica em petróleo, habitada pelos muçulmanos Uiguris. O governo chinês estimula a migração da etnia Han para a região, com o objetivo de fortalecer a unidade nacional.
- C) Tibete, nascente dos principais rios chineses, tem na triticultura e na rizicultura irrigada seus principais produtos. Esse território é o principal fornecedor de alimentos para a enorme população chinesa.
- D) Sinkiang, destaca-se por concentrar grande parte das siderúrgicas chinesas, devido à concentração de carvão mineral, nas bacias sedimentares e de minério de ferro nos escudos cristalinos.

• Questão 30 •

Rachadura quilométrica recorda que a África está se dividindo em duas

4 ABR 2018 - 23:44 CEST

“Por baixo há uma falha no terreno que está separando a África em duas”, diz Juan Ignacio Soto, catedrático do departamento de geodinâmica da Universidade de Granada. Mas o tempo da separação é geológico, levará milhões de anos. “Sabemos que acontecerá, mas não quando”, acrescenta. Em certa medida, é o processo inverso ao que gera cordilheiras como o Himalaia e os Andes.

<https://brasil.elpais.com/brasil/2018/04/04/ciencia/1522854864_966199.html>

Assinale a alternativa que apresenta a evolução correta do tema, evidenciado na notícia acima:

- A) Os agentes exógenos são os principais responsáveis pela falha no terreno africano, devido à localização no planeta. O intemperismo químico é o principal agente modelador do relevo local. No caso da cordilheira andina, acontece atualmente, um processo intenso de deflação eólica, devido ao fortalecimento dos ventos alísios na região da Zona de Convergência Intertropical (ZCIT).
- B) Os processos evidenciados na notícia apresentam a mesma origem e se relacionam diretamente com os movimentos das placas tectônicas. No caso africano, o movimento divergente acontece próximo a áreas do Vale do Rift. No caso andino e himalaio, ocorre o movimento de subducção, no qual a placa mais densa se projeta por baixo da placa menos densa.
- C) A deriva continental, fenômeno implícito no texto, é responsável pelos movimentos da crosta terrestre, que é dividida em placas tectônicas. Esses grandes blocos rochosos servem como embasamento das formas de relevo e não estão sujeitos às ações erosivas, devido a sua composição extremamente antiga e compactada.
- D) A futura divisão do continente africano tem relação direta com o clima tropical seco, típico das savanas. Esse tipo climático possui uma grande amplitude térmica diária, o que fortalece o intemperismo físico e o processo erosivo. O Himalaia, cordilheira de formação antiga, está em processo de retração, devido ao afastamento das placas tectônicas indiana e asiática.



No dia 15 de março de 2018, o site Carta Capital apresenta a notícia abaixo:

Morte de Marielle repercute em todo o mundo

Fonte: <<https://www.cartacapital.com.br/sociedade/morte-de-marielle-repercute-em-todo-o-mundo>>

No dia 20 de março de 2018, o site Catraca Livre apresenta a notícia abaixo:

Viola Davis* usou seu perfil no Instagram, nesta terça-feira, 20, para prestar uma homenagem a Marielle Franco, assassinada no último dia 14, no Rio de Janeiro, junto com seu motorista, Anderson Gomes.

*Primeira atriz negra a ganhar o Oscar (grifo nosso)

Fonte: <<https://catracalivre.com.br/cidadania/viola-davis-presta-homenagem-a-marielle-franco-nas-redes-sociais/>>

• Questão 31 •

Assinale a alternativa que apresenta a relação correta com as notícias acima:

- A) Marielle Franco, vereadora eleita da cidade do Rio de Janeiro, foi assassinada dia 14 de março, junto com o motorista Anderson Gomes. Conhecida por defender minorias e o direito dos pobres, sua morte obteve repercussão internacional.
- B) O assassinato de Marielle expõe a fragilidade do cidadão comum que vive em um grande centro urbano latinoamericano e utiliza transporte público para se deslocar de casa para o trabalho.
- C) A ativista defendia, principalmente, a causa dos animais em risco de extinção na floresta amazônica e combatia o tráfico ilegal dos animais silvestres. Foi assassinada junto com o motorista Anderson Gomes.
- D) A repercussão internacional da morte de Marielle Franco tem uma relação direta com seu engajamento político. Defensora das causas ambientais, liderou ações contra o desmatamento, sobretudo na Amazônia e no continente asiático.

A notícia abaixo foi retirada do site BBC Brasil, publicada no dia 21 de agosto de 2018.

Segundo a Organização Internacional para Migrações (OIM), agência das Nações Unidas para migrações, o Brasil recebeu apenas 2% dos 2,3 milhões de venezuelanos que deixaram o país (...)

Relatório de julho de 2018 da OIM aponta que pelo menos 50 mil pessoas se fixaram no Brasil vindas da Venezuela até abril de 2018, um aumento de mais de 1.000% em relação a 2015. O número leva em conta pedidos de asilo e residência.

<<https://www.bbc.com/portuguese/brasil-45251779>>

• Questão 32 •

Sobre o tema tratado acima, marque a alternativa correta:

- A) Os venezuelanos que abandonam seu país de nascença o fazem porque são perseguidos politicamente, por não concordarem com o projeto de governo e as ações autoritárias do presidente Hugo Chávez.
- B) Rondônia, estado que mais recebe os venezuelanos, não tem infraestrutura suficiente para o acolhimento do grande fluxo populacional que chega diariamente. Por essa razão, pediu o fechamento, temporário, da fronteira com a Venezuela.
- C) Apesar da crise, a Venezuela acredita em um reaquecimento econômico nos próximos anos. Essa possibilidade se fortalece na esteira do acordo bilateral firmado recentemente, entre Venezuela e Estados Unidos.
- D) O estado de Roraima, atualmente a principal porta de entrada para os venezuelanos, pediu ajuda do governo federal, na tentativa de melhor assistir às pessoas que cruzam a fronteira na cidade de Pacaraima, e chegou praticamente sem recursos.

• Questão 33 •



Mulher almoça no acampamento montado para receber moradores de prédio que caiu, em São Paulo. NACHO DOCE (REUTERS)

O desabamento do edifício Wilton Paes de Almeida, no Largo do Paissandu, no centro de São Paulo, escancarou uma verdade com a qual a população da periferia convive diariamente, mas que a classe média e alta esquece, ou simplesmente ignora.

El País Brasil
<https://brasil.elpais.com/brasil/2018/05/03/politica/1525300905_563422.html>

Assinale a alternativa que melhor complementa a notícia e a imagem ao lado:

- A) A ação eficaz do poder público, junto à tragédia ocorrida, garantiu acolhimento digno aos donos dos apartamentos que, momentaneamente, estão desabrigados. A prefeitura prometeu a rápida reconstrução do prédio para os moradores.
- B) A ocupação irregular do edifício e as condições extremamente precárias de habitabilidade do mesmo, culminando em seu desabamento, expõem a ausência e ineficiência do Estado em relação à fiscalização e ao déficit habitacional paulistano.
- C) A construção do conjunto habitacional Wilton Paes de Almeida teve sua entrega adiada, por problemas estruturais que deveriam ser resolvidos, mas o desabamento do mesmo comprovou graves falhas na construção.
- D) O problema da falta de habitação é tratado como prioridade pelo poder público. A ocupação irregular do edifício que desabou, não passa de um caso isolado, mas serve de alerta para eventuais problemas que possam surgir relacionados a este tema.

• Questão 34 •



<<https://gente.ig.com.br/cultura>>

Assinale a alternativa que melhor explicita a intencionalidade da imagem acima, elaborada pelo cartunista Phil Hands:

- A) O “Tio Sam”, personificação dos Estados Unidos, grita – America First, o que significa “ Primeiro a América”, fortalecendo a ideia de integração dos países americanos, frente ao processo de globalização.
- B) O grito emitido por Donald Trump, representando os Estados Unidos, é uma forma de reivindicar um maior fluxo de imigrantes que se dirigem à Europa em detrimento da procura pela América do Norte.
- C) Os cabelos de Donald Trump em chamas, o grito emitido por ele e a Torre Eiffel, representam a saída dos Estados Unidos do Acordo de Paris (2015), que tem como objetivo diminuir a emissão dos gases de efeito estufa e que provocam o aquecimento global.
- D) A charge representa o “Tio Sam” enraivecido pelos avanços tecnológicos desenvolvidos pela Europa Ocidental, liderados pela França, país com o maior gasto bruto em pesquisa e desenvolvimento no mundo e atual líder mundial na produção de satélites de comunicação e monitoramento.

• Questão 35 •

Operação Lava Jato desarticula rede de lavagem de dinheiro em 7 estados

17/03/2014

Curitiba/PR – A Polícia Federal deflagrou na manhã de hoje (17/03) a Operação Lava Jato, para desarticular organizações criminosas que tinham como finalidade a lavagem de dinheiro em diversos estados da Federação.

(<http://www.pf.gov.br/agencia/noticias/2014/03/operacao-lava-jato-desarticula-rede-de-lavagem-de-dinheiro-em-7-estados>)

A notícia, retirada do site oficial da Polícia Federal, marca o início da Operação Lava Jato. Atualmente essa operação está na 51ª fase, denominada Dejà Vu e não tem previsão para terminar. **Sobre a Lava Jato, assinale a alternativa que apresenta informações corretas:**

- A) Alexandre de Moraes, ministro do Superior Tribunal Federal (STF), é a autoridade máxima da Operação em questão e o Juiz Sérgio Moro, da 13ª Vara Criminal de Curitiba, foi incorporado à operação em 2015.
- B) A Operação Lava Jato tem, na figura do juiz Sérgio Moro, seu principal representante, mas, por ser sediada em Curitiba, tem sua atuação limitada às esferas municipal e estadual.
- C) A Operação Lava Jato, apesar de objetivar a prisão de criminosos e a devolução de dinheiro, fruto de propina, não é unanimidade junto à opinião pública, pois muitos a consideram pouco abrangente.
- D) Fruto de uma ação multipartidária, a Lava Jato teve origem em Brasília, articulada por deputados federais e senadores que exerciam seus mandatos em 2014. Atualmente o STF lidera a operação e o ministro Alexandre de Moraes é seu principal representante.



Leia o texto e responda às perguntas de números 36 a 40.



U.K. man whose mother died after getting trapped in a holiday home's cupboard is suing the resort company.

Craig Isherwood, 33, says his mother's death "should never have happened" and that she died "in the most terrible circumstances you could imagine." Elizabeth Isherwood, 60, died in September 2017 after an internal doorknob disintegrated and trapped her inside a cupboard, according to the BBC.

Elizabeth snapped off a piece of water pipe to try and escape, however this caused her to be sprayed with water. Her cause of death was ruled as hypothermia. She was found in the cupboard—which usually stored a boiler and had space for bedding and towels—a week after her death.

She was staying at Plas Talgarth Country Club near Pennal in Wales. The club is owned by Macdonald Resort. Craig alleges the resort owners were at fault on the grounds of

negligence. "The legal action is not about the compensation, because how can you put a value on a life," Craig said (via the BBC). "It is about the fact that this should never have happened. I just want the company to admit that they made a mistake in not checking the door properly and make sure that this cannot happen to anyone else."

Craig revealed that although his mother was able to carve a hole to crawl out of, a picture on the opposite side had been screwed into the wall, blocking her freedom. "Because of the exertion, her body temperature was sky high, but when she stopped her temperature plummeted because she was soaked, and hypothermia set in. [My mother] was fit and healthy and had years of a very happy life ahead of her. She enjoyed looking after my two daughters."

Adam Wilson, the lawyer representing Craig, said the tragedy "could, and should, have been avoided." "It is impossible to imagine the distress that Mrs. Isherwood must have gone through as she tried to free herself."

Isherwood's cause of death has officially been ruled as misadventure. The complex was owned by the Isherwood family through a timeshare deal. They were planning to sell it and Elizabeth was staying there for the final time.

James Hetherington.
www.newsweek.com. 10/17/18. Adaptado.

• Questão 36 •

Choose the title which best summarizes the text.

- A) Son demands reward for his mother's avoidable death.
- B) "I call it negligence", says son, after his mother's death.
- C) Son wants reckless resort company to close its doors.
- D) Son files lawsuit against resort after mother's death .

• Questão 38 •

According to Mr Craig Isherwood,

- A) compensation for his mother's death should be mandatory.
- B) the resort owners will have to be punished on the grounds of negligence.
- C) another accident as the one described will certainly happen again.
- D) no money can pay for his mother's life.

• Questão 37 •

Selecione, dentre as alternativas abaixo, aquela que corresponde ao conteúdo do segundo e terceiro parágrafos:

- A) Mrs. Isherwood morreu asfixiada dentro do armário com fechamento automático.
- B) O armário era amplo e tinha espaço para aquecedor, cama e toalhas.
- C) O acidente com Mrs. Isherwood resultou de um defeito na maçaneta da porta do armário.
- D) A inundação do armário impossibilitou Mrs. Isherwood de pedir ajuda.

• Questão 39 •

Selecione a alternativa em que os termos correspondem, em sentido, àqueles sublinhados no excerto do quinto parágrafo: "*Because of the exertion, her body temperature was sky high, but when she stopped her temperature plummeted because she was soaked, and hypothermia set in.*"

- A) Excesso, altíssima, caiu lentamente.
- B) Esforço, altíssima, caiu abruptamente.
- C) Esforço, alta, caiu lentamente.
- D) Exaustão, excessiva, caiu rapidamente.

• Questão 40 •

Ao final do processo, a morte de Mrs Isherwood foi julgada como:

- A) Infortúnio.
- B) Crime inafiançável.
- C) Fatalidade previsível.
- D) Erro inadmissível.



Leia o poema a seguir, de Alberto Caeiro, heterônimo de Fernando Pessoa, para responder à **questão 41**.

XIV

Não me importo com as rimas. Raras vezes
Há duas árvores iguais, uma ao lado da outra.
Penso e escrevo como as flores têm cor
Mas com menos perfeição no meu modo de exprimir-me
Porque me falta a simplicidade divina
De ser todo só o meu exterior.

Olho e comovo-me,
Comovo-me como a água corre quando o chão é
inclinado,
E a minha poesia é natural como o levantar-se vento...

(PESSOA, Fernando. **Poesia completa de Alberto Caeiro**. São Paulo: Companhia das Letras, 2005, p.39)

• Questão 41 •

A respeito do poema XIV, de *O guardador de rebanhos*, assinale a alternativa correta:

- A) Ao constatar que lhe falta a “simplicidade divina”, Alberto Caeiro revela a ideologia judaico-cristã que fundamenta sua poética.
- B) A intensa comoção expressa na segunda estrofe revela a índole romântica do poeta, ainda preso a valores estéticos do século XIX.
- C) Ao associar sua poética à percepção de fenômenos da natureza, Caeiro justifica o desapego às convenções formais que caracterizam sua poesia.
- D) Apesar de sua crítica ao caráter racional e artificial da linguagem poética, Caeiro revela-se insatisfeito com a natureza imperfeita de seus versos.

Para responder à **questão 42**, leia os fragmentos a seguir, extraídos de “O burrinho pedrês” e “Conversa de bois”, contos que integram a coletânea *Sagarana*, de João Guimarães Rosa.

I.

Alguém que ainda pelejava, já na penúltima ânsia e farto de beber água sem copo, pôde alcançar um objeto encordado que se movia. E aquele um aconteceu ser Francolim Ferreira, e a coisa movente era o rabo do burrinho pedrês. E Sete-de-Ouros, sem susto a mais, sem hora marcada, soube que ali era o ponto de se entregar, confiado, ao querer da correnteza. Pouco fazia que esta o levasse de viagem, muito para baixo do lugar da travessia. Deixou-se, tomando tragos de ar. Não resistia.

(“O burrinho pedrês”. In: ROSA, João Guimarães. **Ficção completa**. Vol 1. Rio de Janeiro: Nova Fronteira, 2017, p. 88)

II.

“– O bebedouro fica longe, – disse o boi Rodapião. – Cansa muito ir até lá, p’ra beber... Vou pensar um jeito qualquer, mais fácil... Pensando, eu acho...”

“Aí, nós nem respondemos. Aquilo era mesmo do boi Rodapião. Porque eu não tinha precisado de pensar, p’ra achar onde era que estava o bebedouro, lá em baixo, mais longe.”

(“Conversa de bois” In: ROSA, João Guimarães. **Ficção completa**. Vol 1. Rio de Janeiro: Nova Fronteira, 2017, p. 282)

• Questão 42 •

A leitura dos fragmentos I e II permite afirmar que, nas duas narrativas,

- A) a sabedoria instintiva, característica dos animais, é superior ao pensamento racional, próprio dos seres humanos.
- B) para ultrapassarem os obstáculos que se apresentam em suas vidas cotidianas, os animais devem adotar o comportamento humano.
- C) tanto a racionalidade humana quanto a sabedoria natural dos animais são inúteis diante do acaso, pois o destino dos seres já está traçado.
- D) para se libertar do jugo de seus opressores, os animais devem exercer uma conduta racional, apreendida no convívio com os seres humanos.

Para responder à **questão 43**, leia o poema a seguir, pertencente à obra *Claro enigma*, publicada por Carlos Drummond de Andrade em 1951.

Sonetilho do falso Fernando Pessoa

Onde nasci, morri.
Onde morri, existo.
E das peles que visto
muitas há que não vi.

Sem mim como sem ti
posso durar. Desisto
de tudo quanto é misto
e que odiei ou senti.

Nem Fausto¹ nem Mefisto²,
à deusa que se ri
deste nosso oaristo³,

eis-me a dizer: assisto
além, nenhum, aqui,
mas não sou eu, nem isto.

(ANDRADE, Carlos Drummond de. *Claro enigma*. 4. ed. Rio de Janeiro: Record, 1991, p. 24)

Vocabulário:

¹ Fausto: personagem lendário alemão, célebre por ter realizado um pacto com o diabo.

² Mefisto: personagem lendário alemão, personificação do diabo.

³ oaristo: conversa familiar e carinhosa.

• Questão 43 •

Nesse poema, ao apresentar uma leitura da poesia heteronímica de Fernando Pessoa, o eu lírico de Drummond constata que

- A) o esforço de se conferir sentido à existência humana é inútil, uma vez que o sujeito é incapaz de compreender sua própria identidade, como sugerem os últimos versos do sonetinho (“assisto / além, nenhum, aqui, / mas não sou eu, nem isto”).
- B) a insubmissão às convenções de uma identidade delimitada e homogênea é um risco à existência, pois aproxima o ser humano da morte, como sugerem os versos “Onde nasci, morri. / Onde morri, existo”.
- C) o sujeito, ao recusar sua identidade e assumir diversas facetas, revela-se incapaz de lidar com suas emoções, conforme exposto em “Desisto / de tudo quanto é misto / e que odiei ou senti”.
- D) o apagamento das marcas identitárias do sujeito instaura, paradoxalmente, a possibilidade de a existência humana persistir, afinal “Sem mim como sem ti / posso durar”.

• Questão 44 •

Um dos aspectos que conferem originalidade ao romance *Iracema*, de José de Alencar, é a presença da visão de mundo do indígena no discurso do foco narrativo e das personagens da obra. Dentre os recursos empregados pelo autor para realizar esse feito, destaca-se a referência a elementos e fenômenos da natureza como instrumento para indicar marcadores temporais ou espaciais na narrativa. **Assinale a alternativa que melhor ilustra o emprego de tal recurso:**

- A) “Mais rápida que a ema selvagem, a morena virgem corria o sertão e as matas do Ipu, onde campeava sua guerreira tribo, da grande nação tabajara.”
- B) “Eles caminharam par a par, como dois jovens cervos que ao pôr do sol atravessam a capoeira recolhendo ao aprisco [local] de onde lhes traz a brisa um faro suspeito.”
- C) “O ancião fumava à porta, sentado na esteira de carnaúba, meditando os sagrados ritos de Tupã. O tênue sopro da brisa carneava, como frocos de algodão, os compridos e raros cabelos brancos.”
- D) “O cristão amou a filha do sertão, como nos primeiros dias, quando parece que o tempo nunca poderá estancar o coração. Mas breves sóis bastaram para murchar aquelas flores de uma alma exilada da pátria.”

• Questão 45 •

A respeito de *Memórias póstumas de Brás Cubas*, publicado em 1881, é correto afirmar que

- A) expressa a guinada para o Realismo universalizante na obra de Machado de Assis, por meio da análise das raízes psicológicas e sociais do comportamento humano.
- B) anuncia a superação do Realismo no Brasil, lançando as bases ideológicas e formais que caracterizariam, no início do século XX, o nacionalismo crítico do Modernismo.
- C) representa a transição de Machado de Assis para um Realismo crítico, preservando ainda traços da idealização romântica na constituição de suas personagens.
- D) instaura o Realismo de caráter naturalista e cientificista no Brasil, conforme ilustra a influência da corrente determinista na construção de suas personagens e de seu enredo.



O texto a seguir servirá de base para a realização das cinco questões objetivas de Língua Portuguesa e da Redação.

Palavras trocadas

Os movimentos politicamente corretos — que irromperam em diversos países, a começar pelos Estados Unidos, a partir do final da década de 1980 — têm provocado uma série de controvérsias em torno dos limites à liberdade de expressão e dos direitos de pessoas ou coletividades a não serem estigmatizadas por meio da linguagem.

Determinadas expressões e manifestações que em outros tempos eram usadas publicamente para se referir a certos grupos sociais, como negros, mulheres e homossexuais, são agora objeto de contestação pelo caráter discriminatório e ofensivo que encerram.

Cada época tem **seus padrões** de sensibilidade, e os limites do aceitável se alteram ao longo da história. Hoje, procuram-se impor novas normas, nem sempre de maneira razoável, com o objetivo de fazer com que também a linguagem, em sintonia com a sociedade, se torne mais inclusiva.

Não surpreende, portanto, que alguns artistas, como mostrou reportagem desta Folha, venham substituindo algumas formulações que hoje possam soar inadequadas na reedição de **suas obras**.

O compositor Criolo, por exemplo, decidiu abolir o termo “traveco” da letra de uma de suas canções, ao relançá-la recentemente.

Outros casos ilustram a mesma preocupação: traduções de seriados dos anos 1970 evitam piadas ou palavras tidas como potencialmente ofensivas, e uma nova versão do popular “Os Trapalhões” abandona tiradas jocosas envolvendo negros, gays e nordestinos.

Note-se que essas correções de rumo parecem incentivadas também por um zelo de mercado. Produtores e exibidores não querem correr o risco de ataque e eventuais boicotes a **seus produtos**.

Em momentos como o atual, de mudanças de costumes, é difícil evitar que exageros entrem em cena —um efeito colateral sem dúvida problemático. No afã de lutar por suas causas e defender **seus representados**, ativistas não raro assumem papel inquisidor.

Tentativas de interditar manifestações de adversários ideológicos, de fomentar polarizações e de eliminar as possibilidades de diálogo tornaram-se frequentes e agressivas em diversos países, em meio ao que se convencionou chamar de “guerra cultural”.

O tempo, espera-se, vai contribuir para que as tensões em curso deem lugar a um ponto de equilíbrio.

Folha de S.Paulo, 30 set. 2018

• Questão 46 •

No primeiro parágrafo, a sequência “estigmatizadas por meio da linguagem”

- A) refere-se às marcas temporais decorrentes da linguagem.
- B) implica a vantagem da interlocução pela linguagem.
- C) diz respeito à visão negativa fixada pela linguagem.
- D) considera a receptividade como característica da linguagem.

• Questão 47 •

No trecho “nem sempre de maneira razoável”, no terceiro parágrafo, a editoria do jornal manifesta

- A) crítica sobre a forma impositiva com que se estabelecem novas normas na atualidade.
- B) necessidade de que haja normas mais impositivas para tornar a sociedade mais inclusiva.
- C) concordância com a urgência de serem criadas normas mais impositivas em tempos atuais.
- D) oposição em relação à forma com a qual não têm sido requeridas normas ao longo dos tempos.

• Questão 48 •

O emprego do advérbio “potencialmente”, no sexto parágrafo, implica

- A) a preocupação em reproduzir as palavras em “Os Trapalhões”.
- B) a potência com que palavras ofensivas são proferidas.
- C) a volta de as palavras serem empregadas jocosamente.
- D) o fato de as palavras poderem instaurar ofensas.

• Questão 49 •

Retome os elementos destacados no texto e indique a que se referem, de acordo com a ordem em que são empregados.

- A) Padrões de sensibilidade; alguns artistas; representados; ativistas.
- B) Cada época; algumas reformulações; correções de rumo; efeito colateral.
- C) Cada época; alguns artistas; produtores e exibidores; ativistas.
- D) Limites do aceitável; reportagem; produtores e exibidores; representados.

• Questão 50 •

As vírgulas empregadas no último parágrafo do texto têm a função de

- A) demarcar ideia de tempo e equilíbrio.
- B) separar oração que demarca expectativa.
- C) reforçar oração destinada à contestação.
- D) questionar a validade do tempo.



IMPORTANTE

Na próxima página,
você encontrará a
proposta de redação
e deverá redigi-la no
CADERNO DE RESPOSTAS.

CONTINUE O TRABALHO.



PROPOSTA DE REDAÇÃO

ELABORE SUA REDAÇÃO, CONSIDERANDO O TEXTO-BASE DAS QUESTÕES OBJETIVAS DE LÍNGUA PORTUGUESA

Construa um texto dissertativo-argumentativo que responda à seguinte questão: o que se defende como politicamente correto prejudica a liberdade de expressão?

Sustente sua opinião com argumentos relevantes e convincentes, articulados de forma coesa e coerente. Dê um título ao texto.

A produção textual será avaliada de acordo com os seguintes critérios: criticidade; adequação do texto ao desenvolvimento do tema; estrutura textual compatível com o texto dissertativo-argumentativo; uso adequado de elementos coesivos; e emprego da modalidade escrita formal da língua portuguesa.

IMPORTANTE

- Redija seu texto a tinta, no espaço a ele destinado. O rascunho não será considerado.
- Nota zero será atribuída se o texto construído: apresentar menos de sete linhas (linhas copiadas dos textos da prova serão desconsideradas); fugir ao tema ou apresentar parte do texto em desacordo com o tema proposto; não atender à estrutura do texto dissertativo-argumentativo; apresentar impropérios, desenhos ou quaisquer outras formas propositais de anulação.
- Será desclassificado o candidato que tirar zero na redação.

O conteúdo desta prova é de propriedade da Fundação São Paulo. É expressamente proibida a sua reprodução em outros concursos, bem como o uso em sala de aula ou qualquer outro tipo, na totalidade ou em parte, sem a prévia autorização por escrito, estando o infrator sujeito à responsabilidade civil e penal.



FUNDAÇÃO SÃO PAULO

